



# MUNICÍPIO DA ESTÂNCIA BALNEÁRIA DE PRAIA GRANDE

Estado de São Paulo  
SEDUC - Secretaria de Educação

## ATIVIDADE 2


# PONTE DO SABER









Disciplina: Matemática

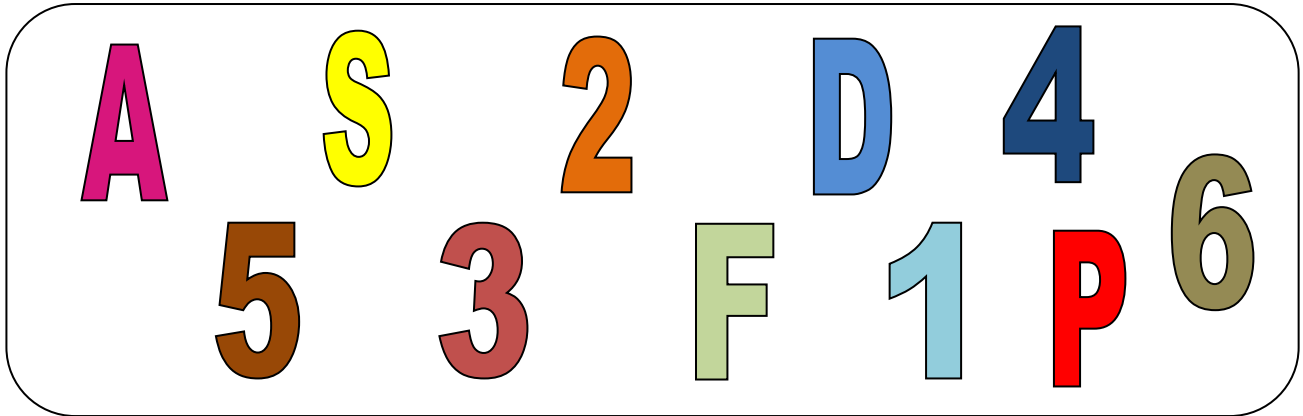
1 e 2 Séries da EJA

1- OBSERVE OS NUMERAIS EM DESTAQUE E DEPOIS ASSINALE A QUANTIDADE CORRETA NAS ALTERNATIVAS ABAIXO:



<p>A)</p>  <p><input type="checkbox"/> 2 <input type="checkbox"/> 3 <input type="checkbox"/> 1</p>	<p>B)</p>  <p><input type="checkbox"/> 2 <input type="checkbox"/> 3 <input type="checkbox"/> 5</p>
<p>C)</p>  <p><input type="checkbox"/> 2 <input type="checkbox"/> 4 <input type="checkbox"/> 5</p>	<p>D)</p>  <p><input type="checkbox"/> 2 <input type="checkbox"/> 4 <input type="checkbox"/> 3</p>
<p>E)</p>  <p><input type="checkbox"/> 5 <input type="checkbox"/> 6 <input type="checkbox"/> 4</p>	<p>F)</p>  <p><input type="checkbox"/> 2 <input type="checkbox"/> 3 <input type="checkbox"/> 4</p>

2- IDENTIFIQUE OS NÚMEROS QUE APARECEM NO QUADRO E ASSINALE A ALTERNATIVA EM QUE ESTÃO EM ORDEM CRESCENTE (DO MENOR PARA O MAIOR).

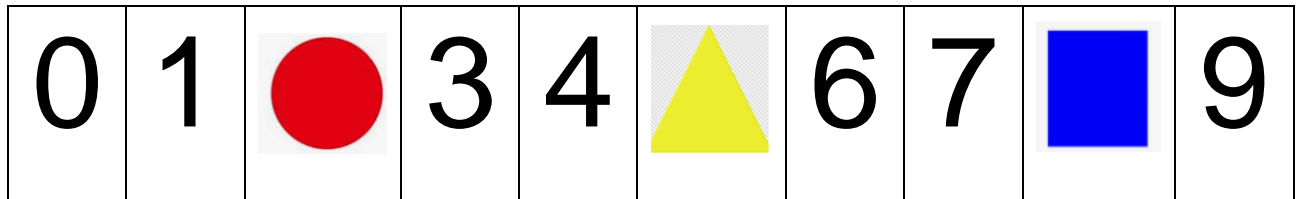


A)  1 - 5 - 3 - 4 - 2 - 6

B)  1 - 2 - 3 - 4 - 5 - 6

C)  6 - 5 - 4 - 3 - 2 - 1

3- IDENTIFIQUE OS NÚMEROS QUE ESTÃO COBERTOS PELAS FIGURAS GEOMÉTRICAS E ASSINALE A ALTERNATIVA CORRETA:



A)  2 - 5 - 8

B)  2 - 4 - 8

C)  3 - 5 - 7